

Zagadnienia powtórzeniowe kl.IIIa4

Temat: Ludność, urbanizacja

Proszę powtórzyć:

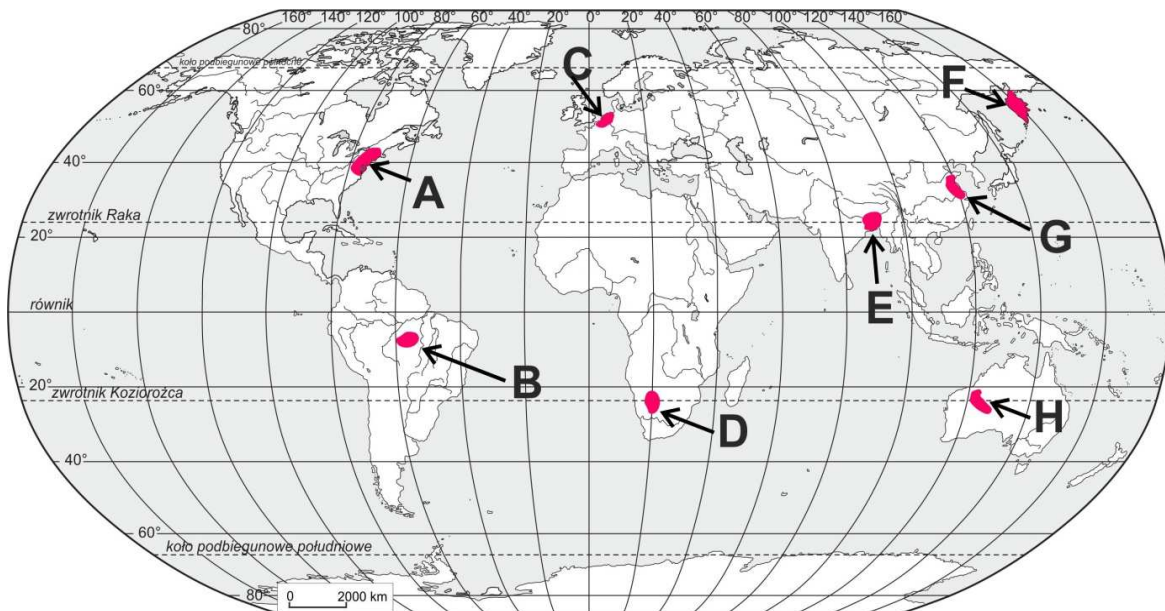
- Rozmieszczenie ludności świata i czynniki wpływające na rozmieszczenie ludności.
- Fazy przejścia demograficznego i typy demograficzne społeczeństw.
- Migracje ludności – przyczyny i skutki.
- Fazy urbanizacji.
- Obliczanie wskaźników:

Gęstości zaludnienia, przyrostu naturalnego, przyrostu rzeczywistego ludności, współczynnika urodzeń i zgonów, współczynnika feminizacji i maskulinizacji, salda migracji, wskaźnika urbanizacji, stopy bezrobocia , współczynnika aktywności zawodowej.

Przykłady zadań z tego działu:

Rozwiązania 02. 04

Zadanie 1 Na mapie literami A–H oznaczono obszary różniące się gęstością zaludnienia.



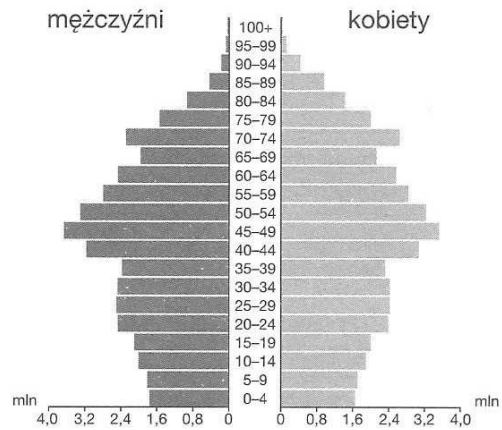
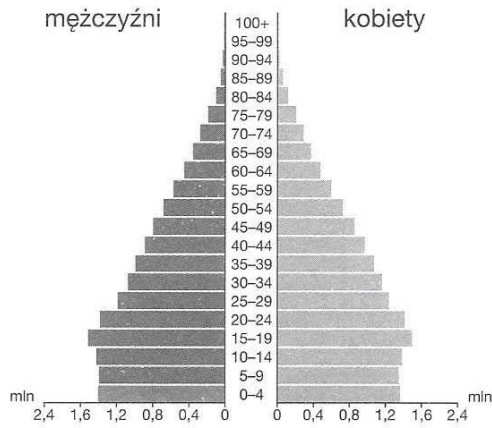
Przyporządkuj do każdej informacji zamieszczonej w tabeli po dwa obszary oznaczone na mapie.

Lp.	Informacja	Oznaczenia literowe obszarów na mapie	
1	Obszary słabo zaludnione ze względu na ujemny bilans wodny.		
2	Obszary gęsto zaludnione ze względu na występowanie żyznych gleb astrefowych.		
3	Obszary gęsto zaludnione ze względu na występowanie klimatów morskich strefy umiarkowanej i podzwrotnikowej.		

Zadanie 2

Poniższe piramidy przedstawiają strukturę wieku i płci społeczeństw dwóch krajów: Niemiec i Peru. Wpisz pod każdą z nich następujące informacje:

- nazwę kraju,
- typ społeczeństwa,
- dwie różnice wynikające z kształtu piramid,
- przyczyny tych różnic.



-
.....
-
.....
-
.....
.....
-
.....
.....
.....

-
.....
-
.....
-
.....
.....
-
.....
.....
.....

Zadanie 3

Wyjaśnij pojęcie – urbanizacja pozorna i podaj nazwy trzech państw, w których obserwuje się to zjawisko.

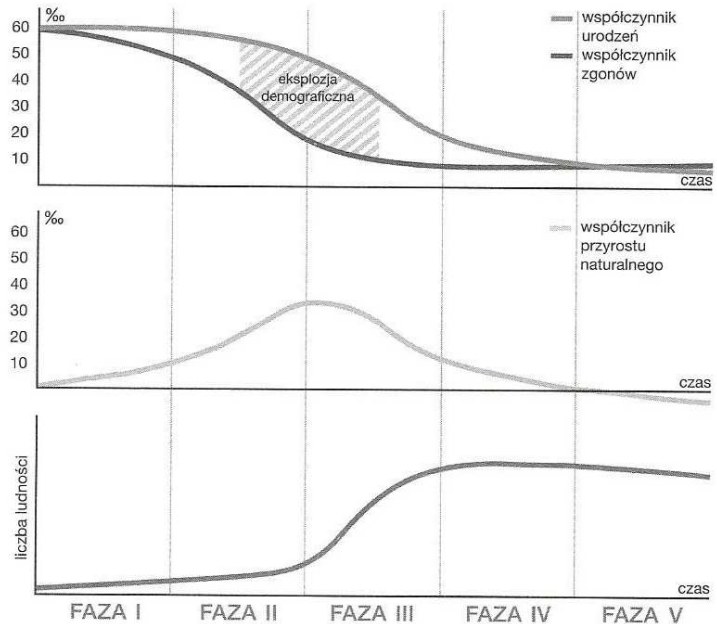
Zadanie 4

Sformułuj i wyjaśnij zależność struktury wieku od poziomu rozwoju gospodarczego państwa.

Zadanie 5

Wykorzystując dane z tabeli zamieszczonej w zadaniu 6., wykonaj polecenia dotyczące Nigerii.

- a) Zaznacz na wykresie średnią wartość W_u i W_z w Nigerii w latach 2000–2010.
- b) Określ fazę rozwoju demograficznego społeczeństwa Nigerii.
- c) Podaj wartość W_{pn} w 2010 r.
- d) Określ prognozy (tendencje) dotyczące W_{pn} w najbliższych latach.



- e) Określ prognozy (tendencje) dotyczące liczby ludności Nigerii w najbliższych latach.

Zadanie 6

Na podstawie danych zawartych w tabeli oraz własnej wiedzy oceń prawdziwość poniższych zdań. Zaznacz literę P, jeśli zdanie jest prawdziwe, lub literę F – jeśli jest fałszywe.

Nazwa kraju	2000		2005		2008		2009		2010	
	W_u [‰]	W_z [‰]	W_u [‰]	W_z [‰]	W_u [‰]	W_z [‰]	W_u [‰]	W_z [‰]	W_u [‰]	W_z [‰]
Nigeria	41,9	17,8	41,0	15,9	40,3	14,9	40,1	14,6	40,0	14,3
Rosja	8,6	15,2	10,2	16,1	12,1	14,6	12,4	14,2	12,6	14,2
Włochy	9,5	9,8	9,5	9,7	9,6	9,7	9,5	9,8	9,3	9,7

- a) W Nigerii obserwuje się systematyczny spadek współczynnika urodzeń (W_u). P F
- b) W Nigerii zaznacza się systematyczny wzrost współczynnika zgonów (W_z). P F
- c) Jedną z przyczyn spadku wartości W_u w Nigerii jest postęp w edukacji. P F
- d) Przyczyną wysokich wartości W_z w Nigerii jest brak postępu w medycynie. P F
- e) W Rosji zaznacza się systematyczny spadek W_u . P F
- f) W latach 2000–2010 w Rosji utrzymywał się ujemny przyrost naturalny. P F
- g) Ujemny przyrost naturalny prowadzi do odmłodzenia społeczeństwa. P F
- h) We Włoszech w latach 2000–2010 współczynnik przyrostu naturalnego (W_{pn}) utrzymywał się na poziomie powyżej 0,5‰. P F
- i) Spośród wymienionych krajów najniższy W_{pn} w latach 2000–2010 miały Włochy. P F