

Dzień dobry!

Bardzo proszę zapoznać się z tematami lekcji (będą ponumerowane, żebyście wiedzieli co po czym). Temat i punkty przepisujecie do zeszytu. Szukacie odpowiedzi na postawione pytania i zapisujecie w zeszycie. Pracę domową wysyłacie na adres radosław.malkus@gmail.com

W temacie wiadomości wpisujecie, klasę oraz imię i nazwisko.

W treści podajecie temat lekcji oraz wykonaną pracę domową.

Pozdrawiam,

Radosław Małkus

Temat 1: Mierniki poziomu rozwoju krajów.

1. Jak porównać państwa pod kątem rozwoju gospodarczego?

Polecenie: Jakich miar/danych statystycznych należy użyć aby porównać Japonię i Turcję pod kątem rozwoju gospodarczego? Tabela str. 12

2. PKB (zapoznaj się z definicją)

3. PKB na jednego mieszkańca/PKB per capita

Polecenie: Odszukaj tabelę (link poniżej) przedstawiającą PKB per capita w wybranych państwach świata i wytłumacz dlaczego Katar ma większe PKB per capita niż USA.

<https://epodreczniki.pl/a/wskazniki-rozwoju-spoeczno-gospodarczego/Dk1OAHsUQ>

4. Przykłady państw o niskim i wysokim PKB per capita (praca z atlasem i mapą).

Polecenie: W oparciu o mapę przedstawiającą PKB wypisz po pięć przykładów państw

a) wysoko rozwiniętych,

b) średnio rozwiniętych

c) słabo rozwiniętych

5. Struktura PKB wg sektorów gospodarki.

Przypomnienie wiadomości o sektorach gospodarki.

I - Rolnictwo, leśnictwo, rybołówstwo,

II – Przemysł i budownictwo

III – Usługi

Polecenie. Tabela przedstawia % udział poszczególnych sektorów gospodarki w strukturze PKB. Zapisz wnioski odnośnie struktury PKB wg sektorów gospodarki w państwach

a) wysoko rozwiniętych

b) słabo rozwiniętych

Kraj	Rolnictwo	Przemysł	Usługi
Mozambik	81	6	13
USA	0,7	23,3	76
Indie	60	17	23

6. Wypisz do zeszytu co uwzględnia wskaźnik poziomu rozwoju społeczno-gospodarczego HDI

7. Wartość wskaźnika HDI a poziom rozwoju państw.

Polecenie: Zapoznaj się z wartościami wskaźnika HDI dla poszczególnych grup państw (str. 13 podręcznik). Dokończ wnioski i wpisz go do zeszytu:

Im wyższy wskaźnik HDI tym.....

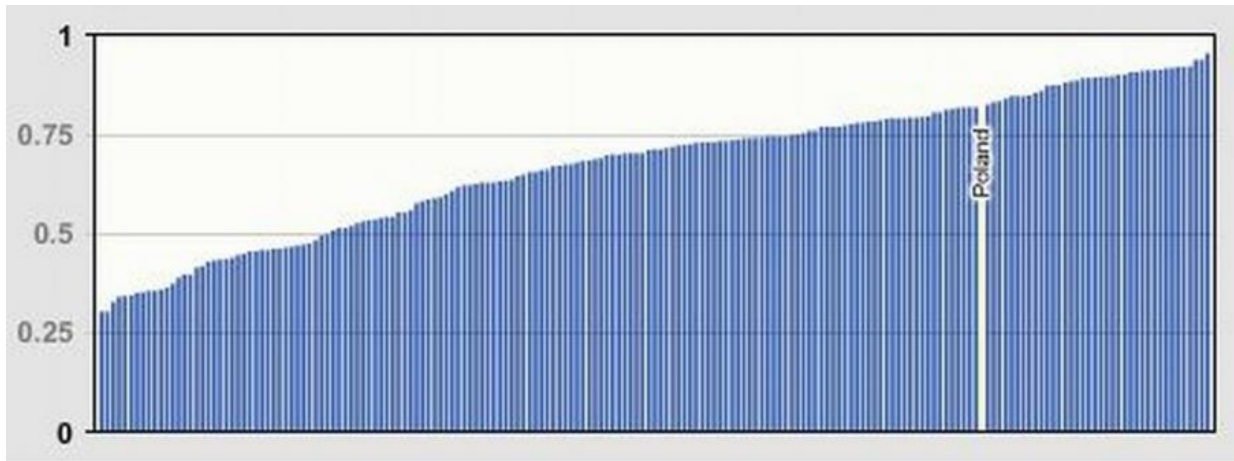
Podsumowanie. Do zapoznania się z tekstem (link poniżej)

<https://epodreczniki.pl/a/wskazniki-rozwoju-spoeczno-gospodarczego/Dk1OAHsUQ>





















Na końcu znajduje się test. Proszę go rozwiązać.

Praca domowa: Proszę wysłać do 20 marca

Polecenie 1. Na podstawie wykresu (poniżej) przedstawiającego poziom wskaźnika HDI w Polsce na tle pozostałych państw świata **ocień** poziom rozwoju społeczno-gospodarczego w Polsce.



Polecenie 2. Uwzględniając dane przedstawione w tabeli określ, w którym państwie, Norwegii czy Singapurze, jest lepsza jakość życia dla mieszkańców. Odpowiedź uzasadnij.

Wskaźniki rozwoju społecznego oraz PKB per capita (HDI)				
Lp.	Kraj	HDI	PKB per capita w dolarach, PPP	Miejsce wg PKB per capita, PPP
1	 Norwegia	0,953	64 800	3
2	 Szwajcaria	0,944	57 410	4
3	 Australia	0,939	44 649	13
4	 Irlandia	0,938	67 335	2
5	 Niemcy	0,936	45 229	12
6	 Islandia	0,935	46 483	10
7	 Hong Kong, China	0,933	56 055	5
7	 Szwecja	0,933	46 949	8
9	 Singapur	0,932	85 535	1
10	 Holandia	0,931	48 473	7
11	 Dania	0,929	46 683	9
12	 Kanada	0,926	44 018	14
13	 Stany Zjednoczone	0,924	54 225	6
14	 Wielka Brytania	0,922	39 753	17
15	 Finlandia	0,920	40 586	16
16	 Nowa Zelandia	0,917	36 086	17
17	 Belgia	0,916	42 659	15
17	 Liechtenstein	0,916	-	-
19	 Japonia	0,909	39 002	18
20	 Austria	0,908	45 437	11

Źródło: Human Development Reports